

A) Aşağıda verilen yüzeylerde gerçekleşen yansıma türünü işaretleyiniz.



- düzgün yansıma
 dağınık yansıma



- düzgün yansıma
 dağınık yansıma



- düzgün yansıma
 dağınık yansıma



- düzgün yansıma
 dağınık yansıma



- düzgün yansıma
 dağınık yansıma



- düzgün yansıma
 dağınık yansıma

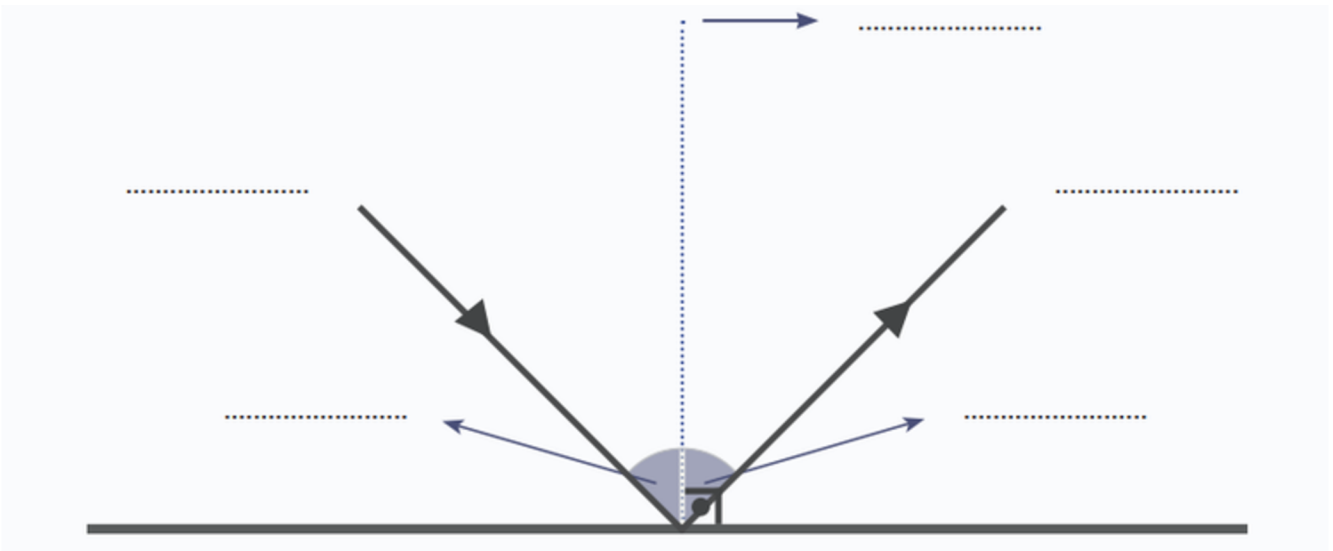


- düzgün yansıma
 dağınık yansıma



- düzgün yansıma
 dağınık yansıma

B) Aşağıda verilen bilgileri doldurunuz.

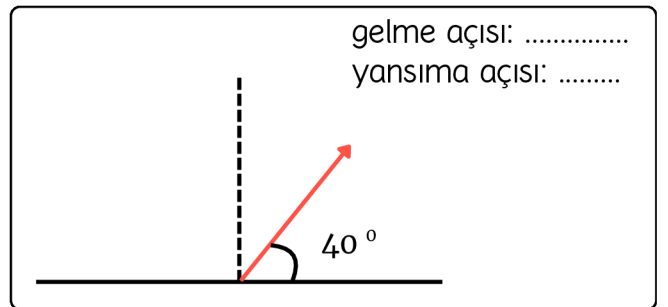
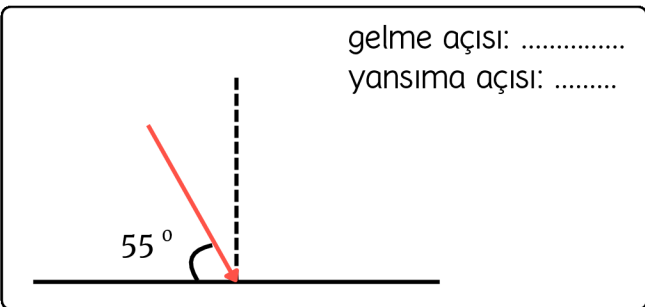
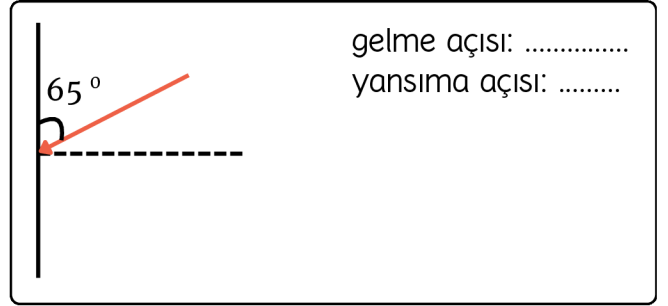
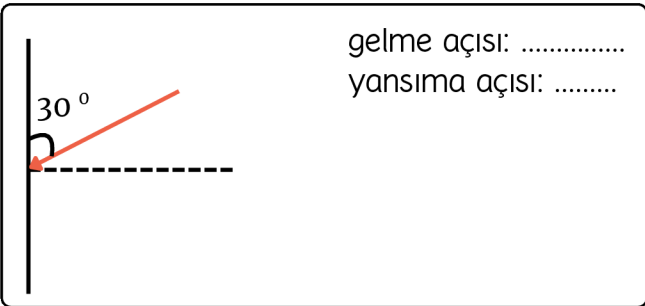
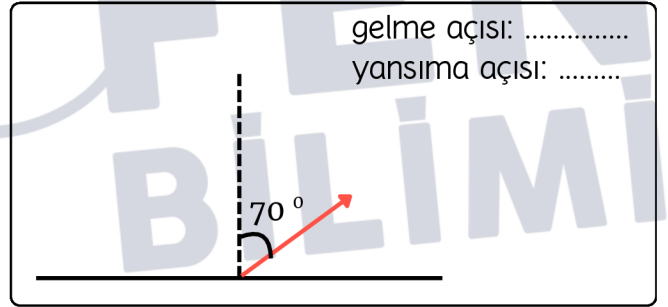
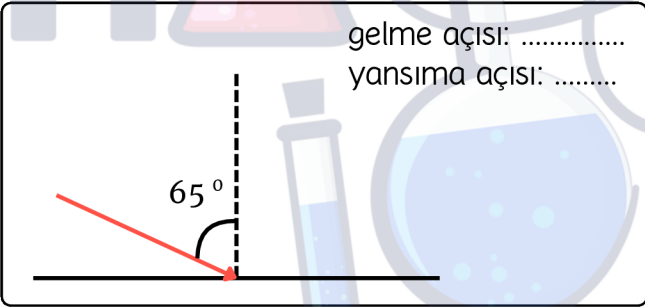
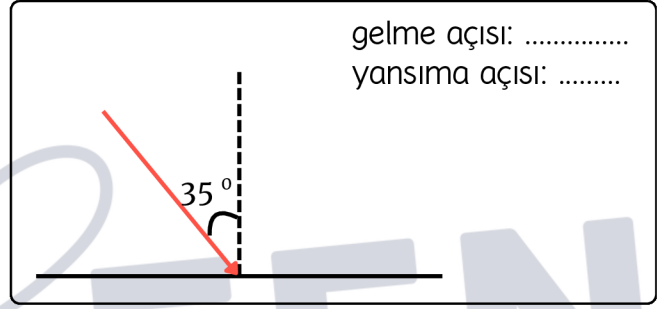
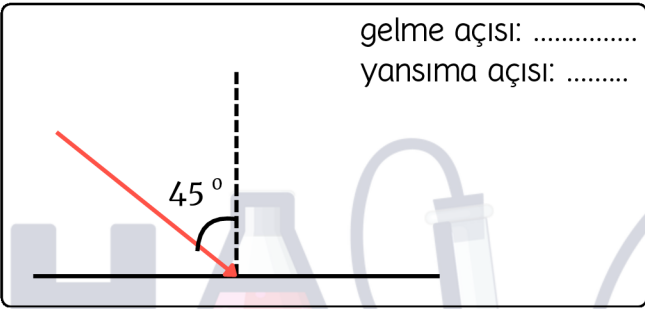


C) Aşağıda verilen ifadeleri okuyunuz. Doğru ise 'D' kutucuğunu, yanlış ise 'Y' kutucuğunu işaretleyiniz.

D Y

- Düzgün yansımaya pürüzsüz ve parlak yüzeylerde gerçekleşir.
- Işığın bir yüzeye çarpıp geldiği ortama geri dönmesine yansımaya denir.
- Kağıt, kumaş, duvar gibi yüzeylerde dağınık yansımaya görülür.
- Dağınık yansımaya pürüzsüz ve parlak yüzeylerde gerçekleşir.
- Düz cam, ayna, durgun su gibi yüzeylerde düzgün yansımaya görülür.
- Paralel gelen ışınlar paralel şekilde yansımaya yapıyorsa düzgün yansımaya gerçekleşmiştir.

D) Aşağıda verilen pekiştirme sorularını çözünüz.



A) Aşağıda verilen yüzeylerde gerçekleşen yansıma türünü işaretleyiniz.



- düzgün yansıma
 dağınık yansıma



- düzgün yansıma
 dağınık yansıma



- düzgün yansıma
 dağınık yansıma



- düzgün yansıma
 dağınık yansıma



- düzgün yansıma
 dağınık yansıma



- düzgün yansıma
 dağınık yansıma

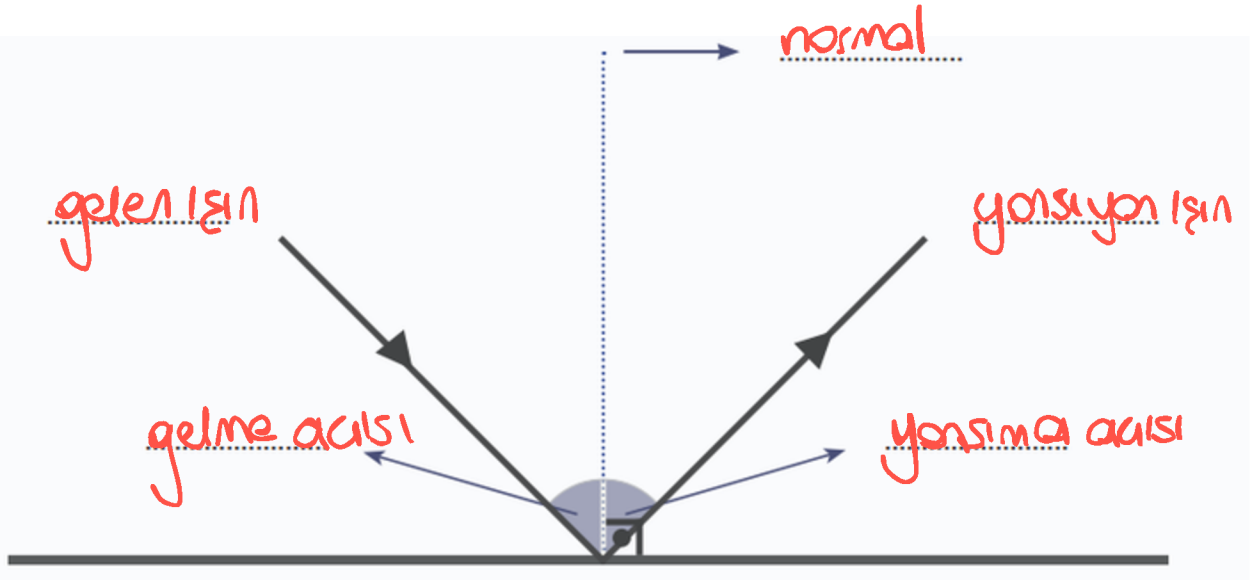


- düzgün yansıma
 dağınık yansıma



- düzgün yansıma
 dağınık yansıma

B) Aşağıda verilen bilgileri doldurunuz.



C) Aşağıda verilen ifadeleri okuyunuz. Doğru ise 'D' kutucuğunu, yanlış ise 'Y' kutucuğunu işaretleyiniz.

- | <input checked="" type="checkbox"/> D | <input type="checkbox"/> Y | |
|---------------------------------------|-------------------------------------|---|
| <input checked="" type="checkbox"/> | <input type="checkbox"/> | Düzgün yansımaya pürüzsüz ve parlak yüzeylerde gerçekleşir. |
| <input checked="" type="checkbox"/> | <input type="checkbox"/> | Işığın bir yüzeye çarpıp geldiği ortama geri dönmesine yansımaya denir. |
| <input checked="" type="checkbox"/> | <input type="checkbox"/> | Kağıt, kumaş, duvar gibi yüzeylerde dağınık yansımaya görülür. |
| <input type="checkbox"/> | <input checked="" type="checkbox"/> | Dağınık yansımaya pürüzsüz ve parlak yüzeylerde gerçekleşir. |
| <input checked="" type="checkbox"/> | <input type="checkbox"/> | Düz cam, ayna, durgun su gibi yüzeylerde düzgün yansımaya görülür. |
| <input checked="" type="checkbox"/> | <input type="checkbox"/> | Paralel gelen ışınlar paralel şekilde yansımaya yapıyorsa düzgün yansımaya gerçekleşmiştir. |

D) Aşağıda verilen pekiştirme sorularını çözünüz.

